



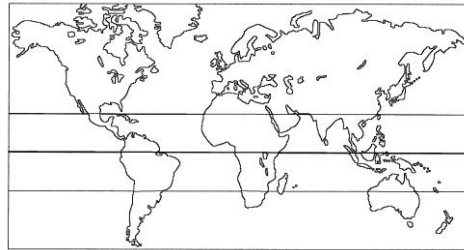
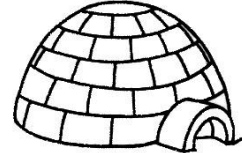
LES ESPACES LOINTAINS

SOMMAIRE DOSSIER PEDAGOGIQUE

Cycle 2 : CP / CE 1

Découvrir le monde : *L'espace*

- 1/ Situer les espaces lointains.
- 2/ De la réalité au plan.
- 3/ Comparer des milieux : les habitations des hommes.
- 4/ Comparer des milieux : la faune.
- 5/ Comparer des milieux : les paysages.
- 6/ Jour et nuit.
- 7/ Des peuples du monde.
- 8/ Lire un paysage.
- 9/ Des climats différents.



Mathématiques :

- 10/ Repérer des cases.
- 11/ Repérer des nœuds.
- 12/ Se déplacer dans le plan.
- 13/ Des figures planes.
- 14/ Calculer des animaux.



Maîtrise de la langue :

- 15/ Des mots pour décrire le monde.
- 16/ Mots fléchés : des familles.
- 17/ Mots mêlés : des contraires.
- 18/ Vrai ou faux ?




Langue vivante :

- 19/ Colours.
- 20/ How's the weather ?

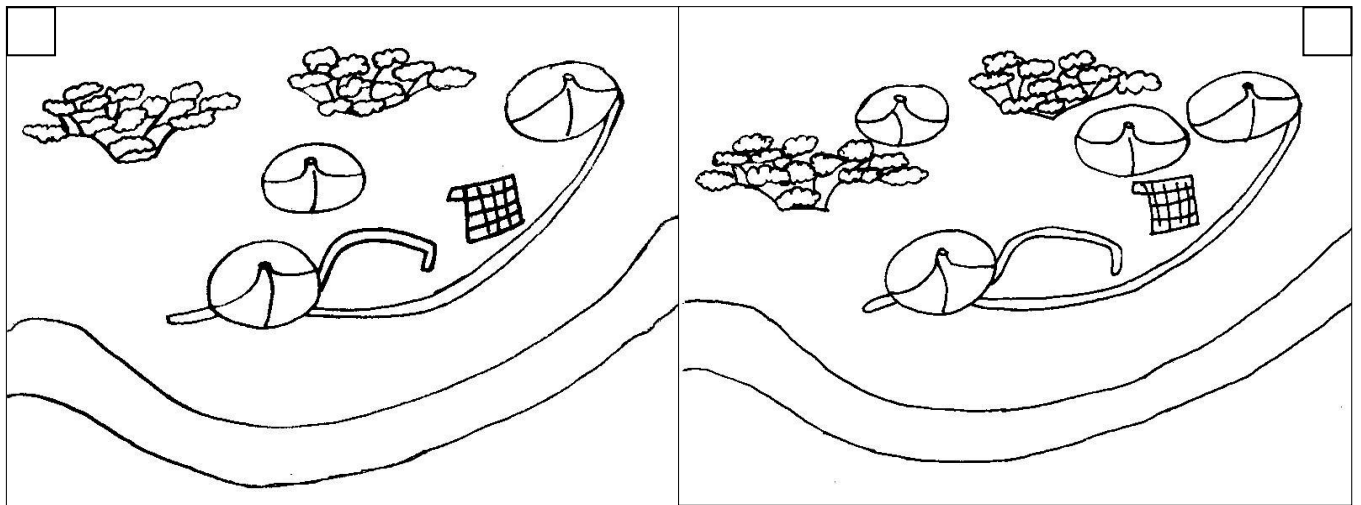


2. DE LA REALITE AU PLAN

Charly et Jeanne survolent l'Afrique. Ils ont une vue d'en haut : une vue aérienne, nécessaire pour réaliser les plans et les cartes. Voici le village du Mali qu'ils peuvent observer :



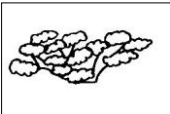
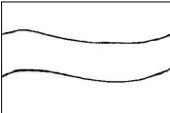

1/ Choisis le plan qui correspond à ce village en cochant la case :



Un plan comporte une légende : des explications pour lire le plan.

2/ Relie les dessins aux mots qui leur correspondent.








habitation	<input type="radio"/>		<input type="radio"/>	piste
arbre	<input type="radio"/>		<input type="radio"/>	case
route	<input type="radio"/>		<input type="radio"/>	baobab



5. LES PAYSAGES

Jeanne a rencontré des habitants de pays lointains. Où vivent ces personnes et comment se déplacent-elles ?

1/ Relie les paysages et les moyens de transport aux personnes qui correspondent :



2/ De nos jours le traîneau à chiens peut être remplacé par un véhicule plus moderne. Devine son nom grâce à ces indices :



=



=



8. LES PLANS

Comment lire une image ou une photographie de paysage ?

Lorsque l'on observe un paysage, on le partage en trois parties : les 3 plans.

Le premier plan, c'est ce que l'on voit le plus près de nous, puis vient le **second plan** juste derrière, et enfin l'**arrière plan**, ce que l'on voit au loin.

Charly se prépare à atterrir dans la forêt tropicale en Indonésie :



1/ Observe bien l'image et retrouve les différents éléments du paysage :

A l'arrière plan : . un lac

Au second plan : . un volcan

Au premier plan : . la végétation

2/ Cherche Charly sur l'image et colorie-le. Où se trouve-t-il ? Entoure la bonne réponse.

Premier plan

Second plan

Arrière plan



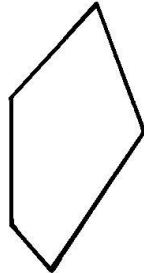
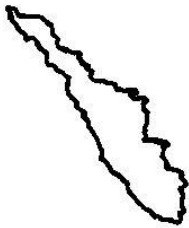
13. DES FIGURES PLANES

Charly et Jeanne ont survolé le monde : essaie de reconnaître les continents ou les pays qu'ils ont vus d'en haut.

1/ Relie la carte géographique avec la forme géométrique qui lui correspond, puis compte le nombre de côtés de la figure.




L'île de Sumatra en Indonésie :



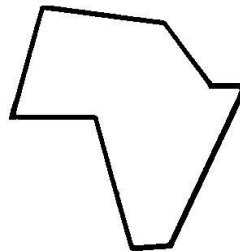
⊙ 5 côtés

Le Groenland :



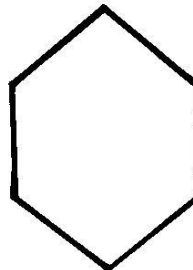
⊙ 6 côtés

La France :



⊙ 7 côtés

Le continent Africain :



⊙ 8 côtés

2/On l'appelle aussi l'hexagone car il en a la forme avec 6 côtés. Même son nom comporte 6 lettres !

De quel pays s'agit-il ?

C'est la

$\frac{\quad}{1} \quad \frac{\quad}{2} \quad \frac{\quad}{3} \quad \frac{\quad}{4} \quad \frac{\quad}{5} \quad \frac{\quad}{6} \cdot$